

## 線形代数 II (担当 松下勝義)

### I. (平面ベクトルと空間ベクトル)

#### 問題

- 演習問題 I-1. 二つの平面ベクトル  $a, b$ , スカラー  $k, l$ ,

$$a = \begin{pmatrix} 4 \\ -3 \end{pmatrix}, \quad b = \begin{pmatrix} 2 \\ 3 \end{pmatrix}, \quad k = -1, \quad l = 2,$$

に対して次の問いに答えよ.

- (1) ベクトル  $c = ka + lb$  を求めよ.
  - (2) 内積  $(a, b)$  を求め, 直交しているか判定せよ.
  - (3)  $a$  と  $b$  が張る平行四辺形の面積を求めよ.
- 演習問題 I-2. 三つの空間ベクトル  $a, b, c$  に対して, ベクトル三重積  $a \times (b \times c)$  をベクトルの内積と和, スカラー倍を用いて表せ.
- 演習問題 I-3. 二つの空間ベクトル  $a, b$ , スカラー  $k, l$ ,

$$a = \begin{pmatrix} 4 \\ -3 \\ 1 \end{pmatrix}, \quad b = \begin{pmatrix} 2 \\ 3 \\ 1 \end{pmatrix}, \quad k = -1, \quad l = 2,$$

に対して次の問いに答えよ.

- (1) ベクトル  $c = ka + lb$  を求めよ.
- (2) 内積  $(a, b)$  を求め, 直交しているか判定せよ.
- (3) 外積  $d = a \times b$  を求めよ.
- (4)  $a, b, d$  が張る平行六面体の体積を求めよ.

## 解答例

- 演習問題 I-1.

– (1)

$$\mathbf{c} = k\mathbf{a} + l\mathbf{b} = -1 \times \begin{pmatrix} 4 \\ -3 \end{pmatrix} + 2 \times \begin{pmatrix} 2 \\ 3 \end{pmatrix} = \begin{pmatrix} -1 \times 4 + 2 \times 2 \\ -1 \times -3 + 2 \times 3 \end{pmatrix} = \begin{pmatrix} 0 \\ 9 \end{pmatrix}$$

– (2)  $(\mathbf{a}, \mathbf{b}) = 4 \times 2 + -3 \times 3 = -1$

従って内積が 0 ではないので直交していない。

– (3)

$$|\mathbf{a} \ \mathbf{b}| = \begin{vmatrix} 4 & 2 \\ -3 & 3 \end{vmatrix} = 4 \times 3 - 2 \times -3 = 18$$

- 演習問題 I-2. 第一成分のみを考える.

$$\begin{aligned} (\mathbf{a} \times (\mathbf{b} \times \mathbf{c}))_1 &= a_2(\mathbf{b} \times \mathbf{c})_3 - a_3(\mathbf{b} \times \mathbf{c})_2 \\ &= a_2(b_1c_2 - b_2c_1) - a_3(b_3c_1 - b_1c_3) \\ &= b_1(a_2c_2) + b_1(a_3c_3) - c_1(a_2b_2) - c_1(a_3b_3) \\ &= b_1(a_2c_2) + b_1(a_3c_3) + [b_1(a_1c_1) - c_1(a_1b_1)] - c_1(a_2b_2) - c_1(a_3b_3) \\ &= b_1(a_1c_1 + a_2c_2 + a_3c_3) - c_1(a_1b_1 + a_2b_2 + a_3b_3) \\ &= (\mathbf{b}(\mathbf{a}, \mathbf{c}) - \mathbf{c}(\mathbf{a}, \mathbf{b}))_1 \end{aligned}$$

- 演習問題 I-3.

– (1)

$$\mathbf{c} = k\mathbf{a} + l\mathbf{b} = -1 \times \begin{pmatrix} 4 \\ -3 \\ 1 \end{pmatrix} + 2 \times \begin{pmatrix} 2 \\ 3 \\ 1 \end{pmatrix} = \begin{pmatrix} -1 \times 4 + 2 \times 2 \\ -1 \times -3 + 2 \times 3 \\ -1 \times 1 + 2 \times 1 \end{pmatrix} = \begin{pmatrix} 0 \\ 9 \\ 1 \end{pmatrix}$$

– (2)

$$(\mathbf{a}, \mathbf{b}) = 4 \times 2 + -3 \times 3 + 1 \times 1 = 0$$

内積が 0 なので直交している。

– (3)

$$\mathbf{a} \times \mathbf{b} = \begin{pmatrix} \begin{vmatrix} -3 & 3 \\ 1 & 1 \end{vmatrix} \\ \begin{vmatrix} 1 & 1 \\ 4 & 2 \end{vmatrix} \\ \begin{vmatrix} 4 & 2 \\ -3 & 3 \end{vmatrix} \end{pmatrix} = \begin{pmatrix} -3 \times 1 - 3 \times 1 \\ 1 \times 2 - 1 \times 4 \\ 4 \times 3 - 2 \times -3 \end{pmatrix} = \begin{pmatrix} -6 \\ -2 \\ 18 \end{pmatrix}$$

– (4)

$$\begin{aligned}(\mathbf{a}, (\mathbf{b} \times \mathbf{d})) &= (\mathbf{a}, (\mathbf{b} \times (\mathbf{a} \times \mathbf{b}))) = (\mathbf{a}, (\mathbf{b}, \mathbf{b}) \mathbf{a} - (\mathbf{a}, \mathbf{b}) \mathbf{b}) = (\mathbf{b}, \mathbf{b}) (\mathbf{a}, \mathbf{a}) - (\mathbf{a}, \mathbf{b})^2 \\ &= (4^2 + (-3)^2 + 1^2) \times (2^2 + 3^2 + 1^2) - 0 = 364\end{aligned}$$

## 演習 A. (平面ベクトルと空間ベクトル)

- 演習問題 A-1.

$$\mathbf{a} = \begin{pmatrix} 1 \\ 1 \\ 0 \end{pmatrix}, \quad \mathbf{b} = \begin{pmatrix} 1 \\ 0 \\ 1 \end{pmatrix} \quad (1)$$

としたとき,

- (1)  $\mathbf{a}$  と  $\mathbf{b}$  のそれぞれのノルムと内積を計算せよ.
- (2)  $\mathbf{a}$  と  $\mathbf{b}$  の外積を計算せよ.
- (3)  $\mathbf{x} = \mathbf{a} - \mathbf{b}$  と  $\mathbf{y} = \mathbf{a} + \mathbf{b}$  の内積と直積を計算せよ.
- (4)  $\mathbf{x}$  と  $\mathbf{y}$  の成す角を求めよ.
- (5)  $\mathbf{a}$ ,  $\mathbf{b}$ ,  $\mathbf{x} \times \mathbf{y}$  の成す平行六面体の体積を求めよ.

- 演習問題 A-2. 空間ベクトル  $\mathbf{a}$  と  $\mathbf{b}$  とその成す角を  $\theta$  として

$$(\mathbf{a}, \mathbf{b}) = \|\mathbf{a}\| \|\mathbf{b}\| \cos(\theta)$$

と書けることから余弦定理,

$$c^2 = \|\mathbf{a}\|^2 + \|\mathbf{b}\|^2 - 2\|\mathbf{a}\| \|\mathbf{b}\| \cos(\theta)$$

を示せ. ただし  $c$  は  $\mathbf{a}$  と  $\mathbf{b}$  が作る三角形のもう一つの辺の長さである.

- 演習問題 A-3. 空間ベクトル  $\mathbf{a}$  と  $\mathbf{b}$  とその成す角を  $\theta$  とする. さらに  $\mathbf{a}$  は第一成分のみ 0 ではなく,  $\mathbf{b}$  は第三成分が 0 とするとき, 外積

$$\mathbf{a} \times \mathbf{b} = \left( \begin{vmatrix} a_2 & b_2 \\ a_3 & b_3 \end{vmatrix}, \begin{vmatrix} a_3 & b_3 \\ a_1 & b_1 \end{vmatrix}, \begin{vmatrix} a_1 & b_1 \\ a_2 & b_2 \end{vmatrix} \right)$$

の大きさが

$$\|\mathbf{a} \times \mathbf{b}\| = \|\mathbf{a}\| \|\mathbf{b}\| \sin(\theta)$$

と書けることを示せ.

## 演習 A 解答例. (平面ベクトルと空間ベクトル)

- 演習問題 A-1.

– (1)

$$(\mathbf{a}, \mathbf{a}) = (1^2 + 1^2 + 0^2) = 2$$

$$(\mathbf{a}, \mathbf{b}) = (1 \times 1 + 1 \times 0 + 0 \times 1) = 1$$

$$(\mathbf{b}, \mathbf{b}) = (1^2 + 0^2 + 1^2) = 2$$

– (2)

$$\begin{aligned} 2\mathbf{a} \times \mathbf{b} &= (1 \times 1 - 0 \times 0, 0 \times 1 - 1 \times 1, 1 \times 0 - 1 \times 1) \\ &= (1, -1, 1) \end{aligned} \quad (2)$$

– (3)

$$\begin{aligned} (\mathbf{x}, \mathbf{y}) &= (\mathbf{a} - \mathbf{b}, \mathbf{a} + \mathbf{b}) \\ &= (\mathbf{a}, \mathbf{a}) + (\mathbf{a}, \mathbf{b}) - (\mathbf{b}, \mathbf{a}) - (\mathbf{b}, \mathbf{b}) \\ &= (\mathbf{a}, \mathbf{a}) - (\mathbf{b}, \mathbf{b}) \\ &= 2 - 2 \\ &= 0 \end{aligned}$$

また,

$$\begin{aligned} \mathbf{x} \times \mathbf{y} &= (\mathbf{a} - \mathbf{b}) \times (\mathbf{a} + \mathbf{b}) \\ &= \mathbf{a} \times \mathbf{a} + \mathbf{a} \times \mathbf{b} - \mathbf{b} \times \mathbf{a} - \mathbf{b} \times \mathbf{b} \\ &= \mathbf{0} + \mathbf{a} \times \mathbf{b} - (-\mathbf{a} \times \mathbf{b}) - \mathbf{0} \\ &= 2\mathbf{a} \times \mathbf{b} \\ &= 2(1, -1, 1) \\ &= (2, -2, 2) \end{aligned}$$

– (4) (1) より内積が 0 なので  $\pi/2$ .

– (5)

$$\begin{aligned} \left| \begin{array}{ccc} \mathbf{a} & \mathbf{b} & \mathbf{x} \times \mathbf{y} \end{array} \right| &= \left| \begin{array}{ccc} \mathbf{a} & \mathbf{b} & 2\mathbf{a} \times \mathbf{b} \end{array} \right| \\ &= (\mathbf{a} \times \mathbf{b}, 2\mathbf{a} \times \mathbf{b}) \\ &= 2\|\mathbf{a} \times \mathbf{b}\|^2 \\ &= 12 \end{aligned}$$

- 演習問題 A-2.  $c = b - a$  と定義する. このとき,

$$\begin{aligned}
 c^2 &= \|c\|^2 = (b - a, b - a) \\
 &= (b, b) - 2(b, a) + (a, a) \\
 &= \|b\|^2 - 2\|a\|\|b\|\cos(\theta) + \|a\|^2 \\
 &= \|b\|^2 + \|a\|^2 - 2\|a\|\|b\|\cos(\theta)
 \end{aligned}$$

より余弦定理が示せる.

- 演習問題 A-3. ベクトル  $a$  は第一成分のみを持つことから,

$$a = (\|a\|, 0, 0)$$

と書ける. 一方, ベクトル  $b$  は第三成分を持たないことと,  $\theta$  は第一成分との成す角だとみなせることから,

$$b = (\|b\|\cos\theta, \|b\|\sin\theta, 0)$$

と書ける. これを外積の定義に代入し計算する

$$\begin{aligned}
 a \times b &= \begin{pmatrix} 0 & \|b\|\sin\theta & 0 \\ 0 & 0 & \|a\| \\ \|a\| & \|b\|\cos\theta & 0 \end{pmatrix} \\
 &= (0, 0, \|a\|\|b\|\sin\theta)
 \end{aligned}$$

となり, その大きさが  $\|a\|\|b\|\sin\theta$  となることが分かる.

## 線形代数 II (担当 松下勝義)

### 問題

#### II. (ベクトル空間, ベクトルの 1 次独立と 1 次従属, 基底と次元)

- 演習問題 II-1. (ベクトルの 1 次独立と 1 次従属) 以下のベクトルの組に対して 1 次独立か 1 次従属かを答えよ.

– (1)

$$\mathbf{a}_1 = \begin{pmatrix} 1 \\ 1 \\ 0 \end{pmatrix}, \quad \mathbf{a}_2 = \begin{pmatrix} 1 \\ 0 \\ 1 \end{pmatrix}, \quad \mathbf{a}_3 = \begin{pmatrix} 0 \\ 1 \\ 1 \end{pmatrix}$$

– (2)

$$\mathbf{a}_1 = \begin{pmatrix} 1 \\ 2 \\ 0 \\ 2 \end{pmatrix}, \quad \mathbf{a}_2 = \begin{pmatrix} 1 \\ 0 \\ 1 \\ 0 \end{pmatrix}, \quad \mathbf{a}_3 = \begin{pmatrix} 1 \\ 0 \\ 0 \\ 0 \end{pmatrix}, \quad \mathbf{a}_4 = \begin{pmatrix} 0 \\ 1 \\ 0 \\ 1 \end{pmatrix}$$

- 演習問題 II-2. 4 次元ベクトル空間を考えたとき, 以下の 4 つのベクトル

$$\mathbf{a}_1 = \begin{pmatrix} 1 \\ 2 \\ 0 \\ 2 \end{pmatrix}, \quad \mathbf{a}_2 = \begin{pmatrix} 1 \\ 0 \\ 1 \\ 0 \end{pmatrix}, \quad \mathbf{a}_3 = \begin{pmatrix} 1 \\ 0 \\ 0 \\ 0 \end{pmatrix}, \quad \mathbf{a}_4 = \begin{pmatrix} 0 \\ 1 \\ 0 \\ 1 \end{pmatrix}$$

を生成系とする部分空間  $W$  について次の問いに答えよ.

- (1)  $W$  の次元を答えよ.
- (2)  $W$  の基底になるベクトルを  $\{\mathbf{a}_1, \mathbf{a}_2, \mathbf{a}_3, \mathbf{a}_4\}$  から選んで与えよ..
- (3) (2) で与えた基底に対して,  $\mathbf{a}_1, \mathbf{a}_2, \mathbf{a}_3, \mathbf{a}_4$  の座標を与えよ.

## 解答例

- 演習問題 II-1.

- (1) 以下のように階段行列へ基本変形を行う.

$$\begin{aligned} (\mathbf{a}_1 \quad \mathbf{a}_2 \quad \mathbf{a}_3) &= \begin{pmatrix} 1 & 1 & 0 \\ 1 & 0 & 1 \\ 0 & 1 & 1 \end{pmatrix} \Rightarrow \begin{pmatrix} 1 & 1 & 0 \\ 0 & -1 & 1 \\ 0 & 1 & 1 \end{pmatrix} \\ \Rightarrow \begin{pmatrix} 1 & 1 & 0 \\ 0 & 1 & -1 \\ 0 & 1 & 1 \end{pmatrix} &\Rightarrow \begin{pmatrix} 1 & 1 & 0 \\ 0 & 1 & -1 \\ 0 & 0 & 2 \end{pmatrix} \Rightarrow \begin{pmatrix} 1 & 1 & 0 \\ 0 & 1 & -1 \\ 0 & 0 & 2 \end{pmatrix} \\ &\Rightarrow \begin{pmatrix} 1 & 1 & 0 \\ 0 & 1 & -1 \\ 0 & 0 & 1 \end{pmatrix} \Rightarrow \begin{pmatrix} 1 & 0 & 0 \\ 0 & 1 & 0 \\ 0 & 0 & 1 \end{pmatrix} \quad (3) \end{aligned}$$

よって  $\text{rank}(\mathbf{a}_1 \mathbf{a}_2 \mathbf{a}_3) = 3$  であり, 1 次独立である.

- (2) 以下のように階段行列へ基本変形を行う.

$$\begin{aligned} (\mathbf{a}_1 \quad \mathbf{a}_2 \quad \mathbf{a}_3 \quad \mathbf{a}_4) &= \begin{pmatrix} 1 & 1 & 1 & 0 \\ 2 & 0 & 0 & 1 \\ 0 & 1 & 0 & 0 \\ 2 & 0 & 0 & 1 \end{pmatrix} \Rightarrow \begin{pmatrix} 1 & 1 & 1 & 0 \\ 0 & -2 & -2 & 1 \\ 0 & 1 & 0 & 0 \\ 0 & -2 & -2 & 1 \end{pmatrix} \\ \Rightarrow \begin{pmatrix} 1 & 1 & 1 & 0 \\ 0 & 1 & 0 & 0 \\ 0 & -2 & -2 & 1 \\ 0 & -2 & -2 & 1 \end{pmatrix} &\Rightarrow \begin{pmatrix} 1 & 1 & 1 & 0 \\ 0 & 1 & 0 & 0 \\ 0 & 0 & -2 & 1 \\ 0 & 0 & -2 & 1 \end{pmatrix} \Rightarrow \begin{pmatrix} 1 & 0 & 0 & \frac{1}{2} \\ 0 & 1 & 0 & 0 \\ 0 & 0 & 1 & -\frac{1}{2} \\ 0 & 0 & 0 & 0 \end{pmatrix} \quad (4) \end{aligned}$$

よって  $\text{rank}(\mathbf{a}_1 \mathbf{a}_2 \mathbf{a}_3 \mathbf{a}_4) = 3$  であり 1 次従属.

- 演習問題 II-2.

- (1) 演習問題 II-1 (2) より rank が 3 であるので  $W$  の次元は 3 である.
- (2) 演習問題 II-1 (2) より三つの独立なベクトルを選べば基底になる. 独立な選び方は複数あるが, ここでは (3) の簡便さのため

$$\mathbf{a}_1, \mathbf{a}_2, \mathbf{a}_3$$

ととる.



- (3) 演習問題 II-1 (2) より

$$\begin{cases} \mathbf{a}_1 = 1 \times \mathbf{a}_1 + 0 \times \mathbf{a}_2 + 0 \times \mathbf{a}_3 \\ \mathbf{a}_2 = 0 \times \mathbf{a}_1 + 1 \times \mathbf{a}_2 + 0 \times \mathbf{a}_3 \\ \mathbf{a}_3 = 0 \times \mathbf{a}_1 + 0 \times \mathbf{a}_2 + 1 \times \mathbf{a}_3 \\ \mathbf{a}_4 = \frac{1}{2} \times \mathbf{a}_1 + 0 \times \mathbf{a}_2 + (-\frac{1}{2}) \times \mathbf{a}_3 \end{cases}$$

であるので, 基底

$$\mathbf{a}_1, \mathbf{a}_2, \mathbf{a}_3 \tag{5}$$

でのそれぞれの座標は

$$\begin{aligned} \mathbf{a}_1 &= \begin{pmatrix} 1 & 0 & 0 \end{pmatrix}, \\ \mathbf{a}_2 &= \begin{pmatrix} 0 & 1 & 0 \end{pmatrix}, \\ \mathbf{a}_3 &= \begin{pmatrix} 0 & 0 & 1 \end{pmatrix}, \\ \mathbf{a}_4 &= \begin{pmatrix} \frac{1}{2} & 0 & -\frac{1}{2} \end{pmatrix}. \end{aligned}$$

## 線形代数 II (担当 松下勝義)

### III. (基底の取り換え, 直行基底, シュミットの直交化)

- 演習問題 III-1. 二つのベクトルの組からなる基底  $(\mathbf{a}_1, \mathbf{a}_2)$  と  $(\mathbf{b}_1, \mathbf{b}_2)$

$$\mathbf{a}_1 = \begin{pmatrix} 1 \\ 1 \\ 0 \end{pmatrix}, \quad \mathbf{a}_2 = \begin{pmatrix} 1 \\ 0 \\ 1 \end{pmatrix}, \quad \mathbf{b}_1 = \begin{pmatrix} 0 \\ -1 \\ 1 \end{pmatrix}, \quad \mathbf{b}_2 = \begin{pmatrix} 2 \\ 1 \\ 1 \end{pmatrix}$$

に対して

- (1)  $(\mathbf{a}_1, \mathbf{a}_2)$  と  $(\mathbf{b}_1, \mathbf{b}_2)$  を取り換え

$$(\mathbf{b}_1, \mathbf{b}_2) = (\mathbf{a}_1, \mathbf{a}_2)\hat{P} \quad (6)$$

で行列  $\hat{P}$  を求めよ.

- (2)

$$\langle \mathbf{b}_1, \mathbf{b}_2 \rangle = \langle \mathbf{a}_1, \mathbf{a}_2 \rangle \quad (7)$$

かどうかを判定せよ.

- 演習問題 III-2. 次の三次元ベクトル空間の基底

$$\mathbf{a}_1 = \begin{pmatrix} 1 \\ 1 \\ 0 \end{pmatrix}, \quad \mathbf{a}_2 = \begin{pmatrix} 1 \\ 0 \\ 1 \end{pmatrix}, \quad \mathbf{a}_3 = \begin{pmatrix} 0 \\ 0 \\ 1 \end{pmatrix}$$

からシュミットの直交化法で正規直交基底を作れ.

## 解答例

- 演習問題 III-1.

– (1). 連立一次方程式

$$\mathbf{b}_1 = (\mathbf{a}_1 \quad \mathbf{a}_2) \begin{pmatrix} p_{11} \\ p_{12} \end{pmatrix}$$

を拡大係数行列,

$$\begin{pmatrix} a_{11} & a_{21} & b_{11} \\ a_{11} & a_{21} & b_{12} \\ a_{13} & a_{23} & b_{13} \end{pmatrix} = \begin{pmatrix} 1 & 1 & 0 \\ 1 & 0 & -1 \\ 0 & 1 & 1 \end{pmatrix}$$

の掃き出し法で解くと,

$$\begin{pmatrix} 1 & 0 & -1 \\ 0 & 1 & 1 \\ 0 & 0 & 0 \end{pmatrix}$$

より  $p_{11} = -1, p_{12} = 1$ . 同様に,

$$\mathbf{b}_2 = (\mathbf{a}_1 \quad \mathbf{a}_2) \begin{pmatrix} p_{21} \\ p_{22} \end{pmatrix}$$

を解くと,  $p_{21}=1, p_{22}=1$ . 従って,

$$\hat{P} = \begin{pmatrix} -1 & 1 \\ 1 & 1 \end{pmatrix}$$

– (2). 行列  $\hat{P}$  の階段行列を求めると,

$$\hat{P} = \begin{pmatrix} -1 & 1 \\ 1 & 1 \end{pmatrix} \rightarrow \begin{pmatrix} 1 & 0 \\ 0 & 1 \end{pmatrix}$$

であり  $\text{rank}(\hat{P})=2$  では  $\hat{P}$  は正則である. 従って

$$\langle \mathbf{b}_1, \mathbf{b}_2 \rangle = \langle \mathbf{a}_1, \mathbf{a}_2 \rangle$$

である.

- 演習問題 III-2. シュミットの直交化を行うと,

$$\mathbf{c}_1 = \mathbf{a}_1 = \begin{pmatrix} 1 \\ 1 \\ 0 \end{pmatrix},$$

$$\mathbf{c}_2 = \mathbf{a}_2 - \frac{(\mathbf{a}_2, \mathbf{c}_1)}{(\mathbf{c}_1, \mathbf{c}_1)} \mathbf{c}_1 = \begin{pmatrix} 1 \\ 0 \\ 1 \end{pmatrix} - \frac{1 \times 1 + 1 \times 0 + 0 \times 1}{1^2 + 1^2 + 0^2} \begin{pmatrix} 1 \\ 1 \\ 0 \end{pmatrix} = \begin{pmatrix} \frac{1}{2} \\ -\frac{1}{2} \\ 1 \end{pmatrix},$$

$$\begin{aligned} \mathbf{c}_3 &= \mathbf{a}_3 - \frac{(\mathbf{a}_3, \mathbf{c}_1)}{(\mathbf{c}_1, \mathbf{c}_1)} \mathbf{c}_1 - \frac{(\mathbf{a}_3, \mathbf{c}_2)}{(\mathbf{c}_2, \mathbf{c}_2)} \mathbf{c}_2 \quad (8) \\ &= \begin{pmatrix} 0 \\ 0 \\ 1 \end{pmatrix} - \frac{0 \times 1 + 0 \times 0 + 0 \times 1}{1^2 + 0^2 + 1^2} \begin{pmatrix} 1 \\ 1 \\ 0 \end{pmatrix} - \frac{0 \times \frac{1}{2} + 0 \times (-\frac{1}{2}) + 1 \times 1}{(\frac{1}{2})^2 + (-\frac{1}{2})^2 + 1^2} \begin{pmatrix} \frac{1}{2} \\ -\frac{1}{2} \\ 1 \end{pmatrix} \\ &= \begin{pmatrix} -\frac{1}{3} \\ \frac{1}{3} \\ \frac{1}{3} \end{pmatrix}. \end{aligned}$$

正規化すると,

$$\mathbf{b}_1 = \frac{\mathbf{c}_1}{|\mathbf{c}_1|} = \begin{pmatrix} \frac{1}{\sqrt{2}} \\ \frac{1}{\sqrt{2}} \\ 0 \end{pmatrix}, \quad \mathbf{b}_2 = \frac{\mathbf{c}_2}{|\mathbf{c}_2|} = \begin{pmatrix} \frac{1}{\sqrt{6}} \\ -\frac{1}{\sqrt{6}} \\ \sqrt{\frac{2}{3}} \end{pmatrix}, \quad \mathbf{b}_3 = \frac{\mathbf{c}_3}{|\mathbf{c}_3|} = \begin{pmatrix} -\frac{1}{3\sqrt{3}} \\ \frac{1}{3\sqrt{3}} \\ \frac{1}{3\sqrt{3}} \end{pmatrix}.$$

## 演習 B. (ベクトル空間, 一次独立性, 線形変換と行列表現)

### • 演習問題 B-1.

二つのベクトルの組  $A, (a_1, a_2)$  ともう一つの組について  $B, (b_1, b_2)$

$$a_1 = \begin{pmatrix} 1 \\ 0 \\ 1 \end{pmatrix}, \quad a_2 = \begin{pmatrix} 1 \\ -1 \\ 0 \end{pmatrix}, \quad b_1 = \begin{pmatrix} 0 \\ 1 \\ 1 \end{pmatrix}, \quad b_2 = \begin{pmatrix} 2 \\ -1 \\ 1 \end{pmatrix}$$

について次の問いに答えよ.

- (1) 二つの組  $A, B$  はそれぞれ一次独立か従属かを答えよ.
- (2) 4つのすべてのベクトルが張る部分空間  $W$  の次元を答えよ.
- (3)  $A$  が生成する部分空間  $W_A$  と  $B$  が生成する  $W_B$  は同じであることを示せ.
- (4) 部分空間  $W_A$  と  $W_B$  の間の行列  $\hat{P}$ ,

$$(b_1, b_2) = (a_1, a_2)\hat{P}$$

を与えよ.

- (5)  $W_A$  と  $W_B$  からそれぞれシュミットの直交化法で正規直交基底を作れ.

### • 演習問題 B-2. 二次元ベクトル空間の以下の基底

$$e_1 = \begin{pmatrix} 1 \\ 1 \end{pmatrix}, \quad e_2 = \begin{pmatrix} 1 \\ -1 \end{pmatrix}.$$

に対して以下の問いに答えよ.

- (1) 全てのベクトルの第一成分 (上の基底の座標ではなく) の符号を変える線形変換  $r_x(x)$  を与え, その表現行列を答えよ.
- (2)  $r_x(x)$  の逆変換の表現行列を答えよ.
- (3) 上の基底での座標  $a = (2, 3)$  を  $(7, 5)$  へ,  $b = (1, 2)$  を  $(4, 3)$  へ移す線形変換  $f(x)$  とその表現行列を与えよ.
- (4) 上の基底での合成変換  $f \circ f(x)$  の表現行列を与えよ.
- (5)  $f \circ r_x(x)$  と  $r_x \circ f(x)$  は同じか答えよ.

## 演習 B 解答例. (ベクトル空間, 一次独立性, 線形変換と行列表現)

- 演習問題 B-1.

- (1) A も B もともにもし一次従属ならある定数  $c_A, c_B$  が存在して,

$$\begin{cases} \mathbf{a}_1 = c_a \mathbf{a}_2 \\ \mathbf{b}_1 = c_b \mathbf{b}_2 \end{cases}$$

ところが  $c_a=1=0=\infty$  となり矛盾し, も  $c_b = 0 = -1 = 1$  となり矛盾する. 従っていずれも一次独立である.

- (2) 以下の行列を基本変形で階段行列に変形する.

$$\begin{aligned} (\mathbf{a}_1 \quad \mathbf{a}_2 \quad \mathbf{b}_1 \quad \mathbf{b}_2) &= \begin{pmatrix} 1 & 1 & 0 & 2 \\ 0 & -1 & 1 & -1 \\ 1 & 0 & 1 & 1 \end{pmatrix} \\ &\rightarrow \begin{pmatrix} 1 & 1 & 0 & 2 \\ 0 & -1 & 1 & -1 \\ 0 & -1 & 1 & -1 \end{pmatrix} \\ &\rightarrow \begin{pmatrix} 1 & 0 & 0 & 1 \\ 0 & 1 & -1 & 1 \\ 0 & 0 & 0 & 0 \end{pmatrix} \end{aligned}$$

(9)

従って  $\text{rank}(\mathbf{a}_1 \quad \mathbf{a}_2 \quad \mathbf{b}_1 \quad \mathbf{b}_2)=2$  であり  $W$  の次元は 2 である.

- (3)  $W$  の次元が 2 である. 従ってこの  $W$  は基底は二つの一次独立なベクトルからなる. 従って  $W$  の基底として  $(\mathbf{a}_1, \mathbf{a}_2)$  を選ぶことができる. 従って  $W \subset W_A$ . ところが  $W$  の定義から  $W$  は  $(\mathbf{a}_1, \mathbf{a}_2)$  を含む生成系から作られるので  $W_A \subset W$  である. 従って  $W = W_A$ . 一方,  $W = W_B$  も同様に言えるので,  $W_A = W = W_B$ .
- (4) まず  $p_{11}, p_{21}$  に対して,

$$\mathbf{b}_1 = (\mathbf{a}_1 \quad \mathbf{a}_2) \begin{pmatrix} p_{11} \\ p_{21} \end{pmatrix} \quad (10)$$

掃きだし法で

$$(\mathbf{a}_1 \quad \mathbf{a}_2 \quad \mathbf{b}_1) = \begin{pmatrix} 1 & 1 & 0 \\ 0 & -1 & 1 \\ 1 & 0 & 1 \end{pmatrix} \rightarrow \begin{pmatrix} 1 & 1 & 0 \\ 0 & 1 & -1 \\ 0 & 0 & 0 \end{pmatrix} \quad (11)$$

よって  $(p_{11}, p_{21}) = (1, -1)$ . 同様によって  $(p_{12}, p_{22}) = (1, 1)$  であり,

$$\hat{P} = \begin{pmatrix} 1 & 1 \\ -1 & 1 \end{pmatrix}. \quad (12)$$

となる.

– (5)  $A$  についてはまず一つ目の基底として  $c_1 = a_1$  を採る. そして

$$c_2 = a_2 - \frac{(a_2, c_1)}{(c_1, c_1)} c_1 = \begin{pmatrix} 1 \\ 0 \\ 1 \end{pmatrix} - \frac{1 \times 1 + 0 \times -1 + 1 \times 0}{1^2 + 0^2 + 1^2} \begin{pmatrix} 1 \\ -1 \\ 0 \end{pmatrix} = \begin{pmatrix} \frac{1}{2} \\ -\frac{1}{2} \\ 1 \end{pmatrix} \quad (13)$$

$e_1 = c_1/\|c_1\|$ ,  $e_2 = c_2/\|c_2\|$  として,

$$e_1 = \begin{pmatrix} \frac{1}{\sqrt{2}} \\ 0 \\ \frac{1}{\sqrt{2}} \end{pmatrix}, \quad e_2 = \begin{pmatrix} \frac{1}{\sqrt{6}} \\ -\frac{1}{\sqrt{6}} \\ \sqrt{\frac{2}{3}} \end{pmatrix}.$$

$B$  に関しては  $(b_1, b_2) = 0$  なので元より直交している. そして  $e'_1 = b_1/\|b_1\|$ ,  $e'_2 = b_2/\|b_2\|$  として,

$$e'_1 = \begin{pmatrix} 0 \\ \frac{1}{\sqrt{2}} \\ \frac{1}{\sqrt{2}} \end{pmatrix}, \quad e'_2 = \begin{pmatrix} \sqrt{\frac{2}{3}} \\ -\frac{1}{\sqrt{6}} \\ \frac{1}{\sqrt{6}} \end{pmatrix}.$$

● 演習問題 B-2.

- (1) 全てのベクトルの第一成分 (上の基底の座標ではなく) の符号を変える線形変換  $r_x(x)$  を与え, その表現行列を答えよ. 第一成分の符号を変える線形変換  $r_x(x)$  は

$$\begin{cases} r_x(e_1) = \begin{pmatrix} -1 \\ 1 \end{pmatrix} = -e_2 \\ r_x(e_2) = \begin{pmatrix} -1 \\ -1 \end{pmatrix} = -e_1 \end{cases} \quad (14)$$

従って表現行列  $B$  は

$$\hat{B} = \begin{pmatrix} 0 & -1 \\ -1 & 0 \end{pmatrix} \quad (15)$$

- (2) 第一成分の符号をもう一度変えると元に戻る. 従って逆変換は  $r_x$  そのものであり, 表現行列は  $\hat{B}$  である.

– (3)

$$\begin{cases} f(2e_1 + 3e_2) = 2f(e_1) + 3f(e_2) = 7e_1 + 5e_2 \\ f(1e_1 + 2e_2) = f(e_1) + 2f(e_2) = 4e_1 + 3e_2 \end{cases}$$

より

$$\begin{pmatrix} 2 & 3 \\ 1 & 2 \end{pmatrix} \begin{pmatrix} f(e_1) \\ f(e_2) \end{pmatrix} = \begin{pmatrix} 7e_1 + 5e_2 \\ 4e_1 + 3e_2 \end{pmatrix}$$

を解けばよい. 掃き出し法で

$$\begin{aligned} \begin{pmatrix} 2 & 3 & 7e_1 + 5e_2 \\ 1 & 2 & 4e_1 + 3e_2 \end{pmatrix} &\rightarrow \begin{pmatrix} 1 & 1 & 3e_1 + 2e_2 \\ 1 & 2 & 4e_1 + 3e_2 \end{pmatrix} \\ &\rightarrow \begin{pmatrix} 1 & 1 & 3e_1 + 2e_2 \\ 0 & 1 & e_1 + e_2 \end{pmatrix} \\ &\rightarrow \begin{pmatrix} 1 & 0 & 2e_1 + e_2 \\ 0 & 1 & e_1 + e_2 \end{pmatrix} \end{aligned}$$

従って

$$\begin{cases} f(e_1) = 2e_1 + e_2 \\ f(e_2) = e_1 + e_2 \end{cases}$$

かつ表現行列  $\hat{A}$  は,

$$\hat{A} = \begin{pmatrix} 2 & 1 \\ 1 & 1 \end{pmatrix}$$

– (4) ただ単に  $\hat{A}$  を二乗すればよい.

$$\hat{A}^2 = \begin{pmatrix} 5 & 3 \\ 3 & 2 \end{pmatrix}$$

– (5) この解答例では計算は省略するが,  $\hat{A}$  と  $\hat{B}$  は非可換であることが確かめられる. したがって同じにはならない.



## 線形代数 II (担当 松下勝義)

### IV. (線形変換と行列表現)

- 演習問題 IV-1.  $\mathbb{R}^2$  の標準基底

$$e_1 = \begin{pmatrix} 1 \\ 0 \end{pmatrix}, \quad e_2 = \begin{pmatrix} 0 \\ 1 \end{pmatrix} \quad (16)$$

とする. 線形変換  $f(x)$  を

$$f(e_1) = \frac{1}{\sqrt{2}}e_1 + \frac{1}{\sqrt{2}}e_2, \quad (17)$$

$$f(e_2) = \frac{1}{\sqrt{2}}e_1 - \frac{1}{\sqrt{2}}e_2 \quad (18)$$

とするととき, 次の問いに答えよ.

- (1)  $f(x)$  の表現行列を答えよ.
- (2)  $f(x)$  は回転を表すか?, 表す場合は何度回転を表すか答えよ.
- (3) 標準基底上の座標  $a = (2, 3)$  はこの線形写像でどのように変換されるか.
- (4)  $f(x)$  の逆変換の表現行列を答えよ.
- (5) 合成写像  $f \circ f(x)$  の表現行列を与えよ.

## 解答例

- 演習問題 IV-1.

– (1)

$$f(x_1\mathbf{e}_1 + x_2\mathbf{e}_2) = x_1f(\mathbf{e}_1) + x_2f(\mathbf{e}_2) = \begin{pmatrix} f(\mathbf{e}_1) & f(\mathbf{e}_2) \end{pmatrix} \begin{pmatrix} x_1 \\ x_2 \end{pmatrix} = \begin{pmatrix} \frac{1}{\sqrt{2}} & \frac{1}{\sqrt{2}} \\ -\frac{1}{\sqrt{2}} & \frac{1}{\sqrt{2}} \end{pmatrix} \begin{pmatrix} x_1 \\ x_2 \end{pmatrix}$$

よって表現行列  $\hat{A}$  は,

$$\hat{A} = \begin{pmatrix} \frac{1}{\sqrt{2}} & \frac{1}{\sqrt{2}} \\ -\frac{1}{\sqrt{2}} & \frac{1}{\sqrt{2}} \end{pmatrix}$$

– (2) 表現行列  $\hat{A}$  は

$$\begin{pmatrix} \frac{1}{\sqrt{2}} & \frac{1}{\sqrt{2}} \\ -\frac{1}{\sqrt{2}} & \frac{1}{\sqrt{2}} \end{pmatrix} = \begin{pmatrix} \cos(-\frac{\pi}{4}) & -\sin(-\frac{\pi}{4}) \\ \sin(-\frac{\pi}{4}) & \cos(-\frac{\pi}{4}) \end{pmatrix}$$

と表せるので,  $f(\mathbf{x})$  は  $-\pi/4$  回転を表す線形変換である.

– (3)

$$\hat{A}\mathbf{a} = \begin{pmatrix} \frac{1}{\sqrt{2}} & \frac{1}{\sqrt{2}} \\ -\frac{1}{\sqrt{2}} & \frac{1}{\sqrt{2}} \end{pmatrix} \begin{pmatrix} 2 \\ 3 \end{pmatrix} = \begin{pmatrix} \frac{5}{\sqrt{2}} \\ \frac{1}{\sqrt{2}} \end{pmatrix} \quad (19)$$

と変換される.

– (4)  $\hat{A}$  の逆行列を求めてもよいが, (2) から  $f(\mathbf{x})$  が  $-\pi/4$  回転であることがわかっているので, その逆変換は  $\pi/4$  回転である. したがって,

$$\hat{A}^{-1} = \begin{pmatrix} \cos(\frac{\pi}{4}) & -\sin(\frac{\pi}{4}) \\ \sin(\frac{\pi}{4}) & \cos(\frac{\pi}{4}) \end{pmatrix} = \begin{pmatrix} \frac{1}{\sqrt{2}} & -\frac{1}{\sqrt{2}} \\ \frac{1}{\sqrt{2}} & \frac{1}{\sqrt{2}} \end{pmatrix}.$$

が求める逆変換の表現行列である.

– (5)  $\hat{A}$  の二乗を求めてもよいが, (2) から  $f(\mathbf{x})$  が  $-\pi/4$  回転であることがわかっているので, それを二回変換すると  $-\pi/2$  回転することが分かる. したがって,

$$\hat{A}^2 = \begin{pmatrix} \cos(-\frac{\pi}{2}) & -\sin(-\frac{\pi}{2}) \\ \sin(-\frac{\pi}{2}) & \cos(-\frac{\pi}{2}) \end{pmatrix} = \begin{pmatrix} 0 & -1 \\ 1 & 0 \end{pmatrix}.$$

## 線形代数 II (担当 松下勝義)

### V. (行列の固有値と固有ベクトル)

以下の行列  $\hat{A}$  とベクトル  $x, b$  に対して連立方程式,  
次の行列の固有値と固有ベクトルを求めよ.

- 演習問題 V-1.

$$\hat{A} = \begin{pmatrix} 2 & -2 \\ -1 & 3 \end{pmatrix},$$

- 演習問題 V-2.

$$\hat{A} = \begin{pmatrix} 3 & -1 \\ 1 & 2 \end{pmatrix},$$

- 演習問題 V-3.

$$\hat{A} = \begin{pmatrix} 1 & 2 & 2 \\ 1 & 2 & 1 \\ -2 & 2 & 3 \end{pmatrix}.$$

## 解答例

- 演習問題 V-1.  $\hat{A}$  の固有方程式は

$$|x\hat{I}_2 - \hat{A}| = \begin{vmatrix} x-2 & 2 \\ 1 & x-3 \end{vmatrix} = (x-4)(x-1)$$

従って固有値は 4, 1. 固有値 4 に対する固有ベクトル  $\mathbf{u}_1$  は

$$\begin{pmatrix} 4-2 & 2 \\ -1 & 4-3 \end{pmatrix} \begin{pmatrix} x \\ y \end{pmatrix} = \begin{pmatrix} 0 \\ 0 \end{pmatrix}.$$

より  $\mathbf{u}_1 = (x, y) = c_1(1, -1)$  どのように固有値 4 に対する固有ベクトル  $\mathbf{u}_2$  は  $\mathbf{u}_2 = (x, y) = c_2(2, 1)$ . ただし  $c_1, c_2$  は任意定数.

- 演習問題 V-2.  $\hat{A}$  の固有方程式は

$$|x\hat{I}_2 - \hat{A}| = \begin{vmatrix} x-3 & 1 \\ -1 & x-1 \end{vmatrix} = (x-2)^2$$

従って固有値は 2 のみで固有ベクトル  $\mathbf{u}$  は

$$\begin{pmatrix} -1 & 1 \\ -1 & 1 \end{pmatrix} \begin{pmatrix} x \\ y \end{pmatrix} = \begin{pmatrix} 0 \\ 0 \end{pmatrix}.$$

より  $\mathbf{u} = (x, y) = (1, 1)$ .

- 3  $\hat{A}$  の固有方程式は

$$|x\hat{I}_3 - \hat{A}| = \begin{vmatrix} x-1 & -2 & -2 \\ -1 & x-2 & -1 \\ 2 & -2 & x-3 \end{vmatrix} = (x-1)(x-2)(x-3)$$

従って固有値は 3 の固有ベクトル  $\mathbf{u}_1$  は

$$\begin{pmatrix} 0 & -2 & -2 \\ -1 & -1 & -1 \\ 2 & -2 & -2 \end{pmatrix} \begin{pmatrix} x \\ y \\ z \end{pmatrix} = \begin{pmatrix} 0 \\ 0 \\ 0 \end{pmatrix}.$$

より  $\mathbf{u}_1 = (x, y, z) = c_1(0, 1, -1)$ . 同様に固有値 2 の固有ベクトルは  $\mathbf{u}_2 = (x, y, z) = c_2(2, 3, -2)$ . 同様に固有値 1 の固有ベクトルは  $\mathbf{u}_3 = (x, y, z) = c_3(1, 1, 0)$ .

## 線形代数 II (担当 松下勝義)

### VI. (行列の対角化)

以下の行列  $\hat{A}$  を対角化せよ. また対角化する正則行列  $\hat{P}$  を答えよ. (使える場合はレポート V の解答を使ってよい.)

- 演習問題 VI-1.

– (1)

$$\hat{A} = \begin{pmatrix} 2 & -2 \\ -1 & 3 \end{pmatrix},$$

– (2) 対称行列

$$\hat{A} = \begin{pmatrix} 3 & 1 \\ 1 & 1 \end{pmatrix},$$

– (3)

$$\hat{A} = \begin{pmatrix} 1 & 2 & 2 \\ 1 & 2 & 1 \\ -2 & 2 & 3 \end{pmatrix}.$$

- 演習問題 VI-2. 以下の行列が対角化可能かを判定せよ.

– (1)

$$\hat{A} = \begin{pmatrix} 0 & -2 \\ 2 & 0 \end{pmatrix},$$

– (2)

$$\hat{A} = \begin{pmatrix} 3 & -1 \\ 1 & 2 \end{pmatrix}.$$

## 解答例

- 演習問題 VI-1.

– (1)  $\hat{A}$  の固有値と固有ベクトルは問題 V-(1) より

$$\begin{cases} \lambda_1 = 1 & \mathbf{u}_1 = \begin{pmatrix} 1 \\ -1 \end{pmatrix} \\ \lambda_2 = 4 & \mathbf{u}_2 = \begin{pmatrix} 2 \\ 1 \end{pmatrix}. \end{cases}$$

従って,

$$\hat{A}(\mathbf{u}_1 \quad \mathbf{u}_2) = (\lambda_1 \mathbf{u}_1 \quad \lambda_2 \mathbf{u}_2) = (\mathbf{u}_1 \quad \mathbf{u}_2) \begin{pmatrix} \lambda_1 & 0 \\ 0 & \lambda_2 \end{pmatrix} = \hat{P} \begin{pmatrix} \lambda_1 & 0 \\ 0 & \lambda_2 \end{pmatrix}$$

従って対角化した行列は

$$\begin{pmatrix} 1 & 0 \\ 0 & 4 \end{pmatrix},$$

対角化するための正則行列は

$$\hat{P} = \begin{pmatrix} 1 & 2 \\ -1 & 1 \end{pmatrix}.$$

– (2)  $\hat{A}$  の固有方程式は

$$|x\hat{I}_2 - \hat{A}| = \begin{vmatrix} x-3 & -1 \\ -1 & x-3 \end{vmatrix} = (x-2)(x-4)$$

従って固有値は  $\lambda_1=2$  と  $\lambda_2=4$ . 固有値  $\lambda_1=2$  に対応する固有ベクトルは掃き出し法を用いて

$$\begin{pmatrix} -1 & -1 & 0 \\ -1 & -1 & 0 \end{pmatrix} \rightarrow \begin{pmatrix} 1 & 1 & 0 \\ 0 & 0 & 0 \end{pmatrix}$$

なので任意定数  $c_1$  を用いて  $\mathbf{u}_1 = c_1(1, -1)$ . ここでは規格化して  $c_1$  を決めて  $\mathbf{u}_1 = (1/\sqrt{2}, -1/\sqrt{2})$ . 同様に固有値  $\lambda_2=4$  に対する規格化された固有ベクトルは  $\mathbf{u}_2 = (1/\sqrt{2}, 1/\sqrt{2})$ . 従って, 対角化された行列は

$$\begin{pmatrix} 2 & 0 \\ 0 & 4 \end{pmatrix},$$

であり対角化するための正則行列は

$$\hat{P} = \begin{pmatrix} 1/\sqrt{2} & 1/\sqrt{2} \\ -1/\sqrt{2} & 1/\sqrt{2} \end{pmatrix} = \begin{pmatrix} \cos(-\pi/4) & -\sin(-\pi/4) \\ \sin(-\pi/4) & \cos(-\pi/4) \end{pmatrix}$$

という回転行列 (もしくは直行行列  $\hat{P}^\dagger \hat{P} = \hat{I}_2$ ) になる.

- (3)  $\hat{A}$  の固有値と固有ベクトルは問題 V-(3) より

$$\left\{ \begin{array}{l} \lambda_1 = 1 \quad \mathbf{u}_1 = \begin{pmatrix} 0 \\ 1 \\ -1 \end{pmatrix} \\ \lambda_2 = 2 \quad \mathbf{u}_2 = \begin{pmatrix} 2 \\ 3 \\ -2 \end{pmatrix} \\ \lambda_3 = 3 \quad \mathbf{u}_3 = \begin{pmatrix} 1 \\ 1 \\ 0 \end{pmatrix} \end{array} \right. ,$$

従って対角化した行列は

$$\begin{pmatrix} 1 & 0 & 0 \\ 0 & 2 & 0 \\ 0 & 0 & 3 \end{pmatrix} ,$$

対角化するための正則行列は

$$\hat{P} = \begin{pmatrix} 0 & 2 & 1 \\ 1 & 3 & 1 \\ -1 & -2 & 0 \end{pmatrix} .$$

● 演習問題 V-2.

- (1)  $\hat{A}$  の固有方程式は

$$\begin{vmatrix} x & -2 \\ 2 & x \end{vmatrix} = (x+2)(x-2)$$

従って異なる二つの固有値を持つため、二つの一次独立な固有ベクトルを持つ。従って対角化可能である。

- (2)  $\hat{A}$  の固有値と固有ベクトルは問題 V-(2) より一つしかない。これは対角化には  $\hat{A}$  が二次の行列であるため一つ足りない。従って対角化できない。

## 線形代数 II (担当 松下勝義)

### 演習 C. (固有値と固有ベクトル, 行列の対角化)

- 演習 C-1.

- (a) 次の行列  $\hat{A}$  に対して, 固有値, 固有ベクトルを求めよ.
- (b) 対角化できるか判定せよ.
- (c) 対角化できる場合, 対角化し, 対角化のための正則行列  $\hat{P}$  を求めよ. ただし,  $\hat{A}$  が対称行列の場合,  $\hat{P}^{-1}$  は直行行列として与えよ.

– (1)

$$\begin{pmatrix} 3 & 3 \\ -2 & -4 \end{pmatrix}$$

– (2)

$$\begin{pmatrix} 1 & 2 & 3 \\ -1 & 3 & 1 \\ 3 & -2 & 1 \end{pmatrix}$$

– (3)

$$\begin{pmatrix} 1 & 2 & 3 \\ -1 & 3 & 1 \\ 0 & 5 & 4 \end{pmatrix}$$

– (4)

$$\begin{pmatrix} 2 & 0 & 0 \\ 0 & 1 & -1 \\ 0 & -1 & 1 \end{pmatrix}$$

- 演習 C-2.

- (1) 次の二つの行列  $\hat{A}, \hat{B}$  に対して

$$\hat{A} = \begin{pmatrix} 1 & -1 \\ 0 & 2 \end{pmatrix}, \quad \hat{B} = \begin{pmatrix} 2 & -1 \\ 0 & 3 \end{pmatrix}.$$

同じ正則行列  $\hat{P}$  で対角化可能か答えよ.

- (2) 同じ  $\hat{P}$  で対角化可能であれば  $\hat{A}, \hat{B}$  が可換であることを示せ.  
(ヒント:対角行列同士は可換になる.)



## 演習 C 解答例. (固有値と固有ベクトル, 行列の対角化)

- 演習 C-1-(1).

– (a) 固有方程式は

$$\begin{vmatrix} x+4 & -3 \\ 2 & x-3 \end{vmatrix} = (x+3)(x-2)$$

従って固有値は  $\lambda_1=2$  と  $\lambda_2=-3$ . 固有値  $\lambda_1$  の固有ベクトルは掃き出し法

$$\begin{pmatrix} 6 & -3 & 0 \\ 2 & -1 & 0 \end{pmatrix} = \begin{pmatrix} 2 & -1 & 0 \\ 0 & 0 & 0 \end{pmatrix}$$

従って未定定数  $c_1$  を用いて

$$\mathbf{u}_1 = c_1 \begin{pmatrix} 1 \\ 2 \end{pmatrix}$$

同様に固有値  $\lambda_2$  に対して, 未定定数  $c_2$  を用いて

$$\mathbf{u}_2 = c_2 \begin{pmatrix} 3 \\ 1 \end{pmatrix}$$

– (b) (a) より二つの固有値の異なる固有ベクトルがあるため, 対角化可能.

– (c) 対角化された行列は,

$$\begin{pmatrix} 2 & 0 \\ 0 & -3 \end{pmatrix}$$

であり,

$$\hat{P} = \begin{pmatrix} 1 & 3 \\ 2 & 1 \end{pmatrix}$$

となる.

- 演習 C-1-(2).

– (a) 固有方程式は

$$\begin{vmatrix} x-1 & -2 & -3 \\ -1 & x-3 & -1 \\ -3 & 2 & x-1 \end{vmatrix} = (x+1)(x-2)(x-4). \quad (20)$$

よって固有値  $\lambda_1 = -1, \lambda_1 = 2, \lambda_1 = 4$  固有値  $\lambda_1 = -1$  の固有ベクトルは, 未定定数  $c_1$  を用いて

$$\mathbf{u}_1 = c_1 \begin{pmatrix} 2 \\ 1 \\ -2 \end{pmatrix}$$

固有値  $\lambda_1 = 2$  の固有ベクトルは, 未定定数  $c_2$  を用いて

$$\mathbf{u}_2 = c_2 \begin{pmatrix} 1 \\ 2 \\ -1 \end{pmatrix}$$

固有値  $\lambda_1 = 4$  の固有ベクトルは, 未定定数  $c_3$  を用いて

$$\mathbf{u}_3 = c_3 \begin{pmatrix} 1 \\ 0 \\ 1 \end{pmatrix}$$

- (b) 三つの異なる固有値が存在するため対角化可能.
- (c) 対角化された行列は,

$$\begin{pmatrix} -1 & 0 & 0 \\ 0 & 2 & 0 \\ 0 & 0 & 4 \end{pmatrix}$$

であり,

$$\hat{P} = \begin{pmatrix} 2 & 1 & 1 \\ 1 & 2 & 0 \\ -2 & -1 & 1 \end{pmatrix}$$

となる.

● 演習 C-1-(3)

- (a) 固有方程式は

$$\begin{vmatrix} x-1 & -2 & -3 \\ 1 & x-3 & -1 \\ 0 & -5 & x-4 \end{vmatrix} = x(x-4)^2$$

従って固有値は  $\lambda_1=0$  と  $\lambda_2=4$ . 固有値  $\lambda_1 = 0$  の固有ベクトルは, 未定定数  $c_1$  を用いて

$$\mathbf{u}_1 = c_1 \begin{pmatrix} 7 \\ 4 \\ -5 \end{pmatrix}$$

同様に固有値  $\lambda_2 = 4$  に対して, 未定定数  $c_2$  を用いて

$$\mathbf{u}_2 = c_2 \begin{pmatrix} 1 \\ 0 \\ 1 \end{pmatrix}$$

- (b) 固有ベクトルが二つしかないため対角化できない.
- (c) 対角化できない.

• (4)

- (a) 固有方程式は

$$\begin{vmatrix} x-2 & 0 & 0 \\ 0 & x-1 & 1 \\ 0 & 1 & x-1 \end{vmatrix} = x(x-2)^2. \quad (21)$$

よって固有値  $\lambda_1 = 0, \lambda_2 = 2$  固有値  $\lambda_1 = 0$  の固有ベクトルは, 未定定数  $c_1$  を用いて

$$\mathbf{u}_1 = c_1 \begin{pmatrix} 0 \\ 1 \\ 1 \end{pmatrix}$$

固有値  $\lambda_2 = 2$  の固有ベクトルは, 未定定数  $c_2$  を用いて

$$\mathbf{u}_2 = c_2 \begin{pmatrix} 1 \\ 0 \\ 0 \end{pmatrix}$$

もう一つ固有値  $\lambda_1 = 2$  の固有ベクトルは, 未定定数  $c_3$  を用いて

$$\mathbf{u}_3 = c_3 \begin{pmatrix} 0 \\ 1 \\ -1 \end{pmatrix}$$

- (b)  $\mathbf{u}_1, \mathbf{u}_2, \mathbf{u}_3$  は互いに直交しており一次独立である. 従って対角化可能.
- (c) 対角化された行列は,

$$\begin{pmatrix} 0 & 0 & 0 \\ 0 & 2 & 0 \\ 0 & 0 & 2 \end{pmatrix}$$

であり,  $\hat{P}$  は直行列として

$$\hat{P} = \begin{pmatrix} 0 & 1 & 0 \\ \frac{1}{\sqrt{2}} & 0 & \frac{1}{\sqrt{2}} \\ \frac{1}{\sqrt{2}} & 0 & -\frac{1}{\sqrt{2}} \end{pmatrix}$$

となる.

• 演習 C-2.

- (1) 二つの行列  $\hat{A}$ ,  $\hat{B}$  の固有ベクトルを求めると, 共に固有ベクトル  $u_1 = (1 \ 0)$  と  $u_1 = (-1 \ 1)$  を持つため,

$$\hat{P} = \begin{pmatrix} 1 & -1 \\ 0 & 1 \end{pmatrix}$$

で対角化できる.

- (2) 同じ正則行列  $\hat{P}$  で対角化可能か答えよ.
- (2)  $\hat{A}$  の対角行列を  $\Lambda_A$ ,  $\hat{B}$  の対角行列を  $\Lambda_B$  とする. このとき

$$\begin{aligned} \hat{A}\hat{B} &= (\hat{P}\hat{P}^{-1})\hat{A}(\hat{P}\hat{P}^{-1})\hat{B}(\hat{P}\hat{P}^{-1}) \\ &= \hat{P}(\hat{P}^{-1}\hat{A}\hat{P})(\hat{P}^{-1}\hat{B}\hat{P})\hat{P}^{-1} \\ &= \hat{P}\Lambda_A\Lambda_B\hat{P}^{-1} \\ &= \hat{P}\Lambda_B\Lambda_A\hat{P}^{-1} \\ &= \hat{P}(\hat{P}^{-1}\hat{B}\hat{P})(\hat{P}^{-1}\hat{A}\hat{P})\hat{P}^{-1} \\ &= \hat{B}\hat{A} \end{aligned} \quad (22)$$

となり同じ  $\hat{P}$  で対角化できるならば可換である.

## 線形代数 II (担当 松下勝義)

### VII. (直交行列, 対称行列の対角化)

- 演習問題 VII-1. 以下に与えられ対称行列を対角化する直交行列  $\hat{P}$  を与えよ.

– (1)

$$\hat{A} = \begin{pmatrix} 1 & 1 \\ 1 & 1 \end{pmatrix}$$

– (2)

$$\hat{B} = \begin{pmatrix} 0 & -1 \\ -1 & 0 \end{pmatrix}$$

– (3)

$$\hat{C} = \begin{pmatrix} \frac{5}{4} & -\frac{\sqrt{3}}{4} \\ -\frac{\sqrt{3}}{4} & \frac{7}{4} \end{pmatrix}$$

- 演習問題 VII-2. 対称行列  $\hat{S}$ , その対角化行列  $\hat{\Lambda}_S$  にたいして

$$\mathbf{x}^\dagger \hat{S} \mathbf{x} = 1 \quad (23)$$

$$\mathbf{x}^\dagger \hat{\Lambda}_S \mathbf{x} = 1 \quad (24)$$

で表される二次曲線を共に二次元座標系  $(x, y)$  上で図示せよ. ただし

$$\mathbf{x} = \begin{pmatrix} x \\ y \end{pmatrix} \quad (25)$$

- (1) 問題 VII-1 で与えられた対称行列  $S=\hat{A}$  と  $\hat{\Lambda}_A$ .
- (2) 問題 VII-1 で与えられた対称行列  $S=\hat{B}$  と  $\hat{\Lambda}_B$ .
- (3) 問題 VII-1 で与えられた対称行列  $S=\hat{C}$  と  $\hat{\Lambda}_C$ .

## 解答例

- VII-1.

– (1) 固有方程式は

$$\begin{vmatrix} \lambda - 1 & -1 \\ -1 & \lambda - 1 \end{vmatrix} = \lambda(\lambda - 2)$$

よって固有値は  $\lambda_1=0$  と  $\lambda_2=2$  固有値  $\lambda_1=0$  の固有ベクトルは掃き出し法で

$$\begin{pmatrix} -1 & -1 & 0 \\ -1 & -1 & 0 \end{pmatrix} \rightarrow \begin{pmatrix} 1 & 1 & 0 \\ 0 & 0 & 0 \end{pmatrix}$$

より  $u_1 = (1 \ -1)$  同様に  $\lambda_1=2$  の固有ベクトルは  $u_2 = (1 \ 1)$  であり、対角化する直行行列はそれぞれの固有ベクトルを規格化し並べて

$$\hat{P} = \begin{pmatrix} \frac{1}{\sqrt{2}} & \frac{1}{\sqrt{2}} \\ -\frac{1}{\sqrt{2}} & \frac{1}{\sqrt{2}} \end{pmatrix} = \begin{pmatrix} \cos(-\frac{\pi}{4}) & -\sin(-\frac{\pi}{4}) \\ \sin(-\frac{\pi}{4}) & \cos(-\frac{\pi}{4}) \end{pmatrix}$$

– (2) 固有方程式は

$$\begin{vmatrix} \lambda & 1 \\ 1 & \lambda \end{vmatrix} = (\lambda - 1)(\lambda + 1)$$

よって固有値は  $\lambda_1=-1$  と  $\lambda_2=1$  固有値  $\lambda_1=-1$  の固有ベクトルは  $u_1 = (1 \ 1)$  同様に  $\lambda_1=1$  の固有ベクトルは  $u_2 = (1 \ 1)$  であり、対角化する直行行列はそれぞれの固有ベクトルを規格化し並べて

$$\hat{P} = \begin{pmatrix} \frac{1}{\sqrt{2}} & -\frac{1}{\sqrt{2}} \\ \frac{1}{\sqrt{2}} & \frac{1}{\sqrt{2}} \end{pmatrix} = \begin{pmatrix} \cos(\frac{\pi}{4}) & -\sin(\frac{\pi}{4}) \\ \sin(\frac{\pi}{4}) & \cos(\frac{\pi}{4}) \end{pmatrix}$$

– (3) 固有方程式は

$$\begin{vmatrix} \lambda - \frac{5}{4} & \frac{\sqrt{3}}{4} \\ \frac{\sqrt{3}}{4} & \lambda - \frac{7}{4} \end{vmatrix} = \lambda(\lambda - 1)$$

よって固有値は  $\lambda_1=1$  と  $\lambda_2=2$  固有値  $\lambda_1=1$  の固有ベクトルは  $u_1 = (\sqrt{3} \ 1)$  同様に  $\lambda_1=2$  の固有ベクトルは  $u_2 = (1 \ -\sqrt{3})$  であり、対角化する直行行列はそれぞれの固有ベクトルを規格化し並べて

$$\hat{P} = \begin{pmatrix} \frac{\sqrt{3}}{2} & -\frac{1}{2} \\ \frac{1}{2} & \frac{\sqrt{3}}{2} \end{pmatrix} = \begin{pmatrix} \cos(\frac{\pi}{6}) & -\sin(\frac{\pi}{6}) \\ \sin(\frac{\pi}{6}) & \cos(\frac{\pi}{6}) \end{pmatrix}$$

- VII-2.

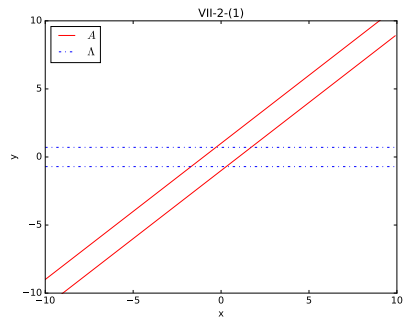


图 1: (1)

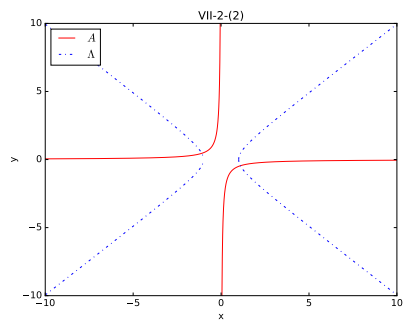


图 2: (2)

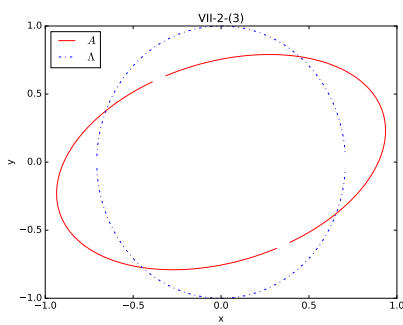


图 3: (3)